

試験開始の指示があるまで、この問題冊子の中を見てはいけません。

①

## 転生したらスライムだった件

100点  
30分

### 注 意 事 項

- 1 解答用紙に、正しく記入されていない場合は、採点できないことがあります。
- 2 この問題冊子は、12ページあります。問題は全10問です。
- 3 試験中に問題冊子の印刷不鮮明、ページの落丁・乱丁及び解答用紙の汚れ等に気付いた場合は、手を高く挙げて監督者に知らせなさい。
- 4 解答は、解答用紙の解答欄に記入しなさい。例えば、 と表示のある問いに対して、  
①と解答する場合は、次の(例)のように解答番号  の解答欄に①と記入しなさい。

(例)

解答番号	解 答 欄
10	①

- 5 問題冊子の余白等は適宜利用してよいが、どのページも切り離してはいけません。
- 6 不正行為について
  - ① 不正行為に対しては厳正に対処します。
  - ② 不正行為に見えるような行為が見受けられた場合は、監督者が思念伝達を用いて注意します。
  - ③ 不正行為を行った場合は、その時点で受験を取りやめさせ退室させます。
- 7 試験終了後、問題冊子は持ち帰りなさい。



# 転生したらスライムだった件

( 解答番号  ~  )

**問 1** 通り魔に刺されて死んでしまった三上悟。彼がスライムに転生する際に聞いた「世界の言葉」の発言の順番として正しいものはどれか。

- I 『…成功しました。エクストラスキル「賢者」はユニークスキル「大賢者」に進化しました。』
- II 『——確認しました。ユニークスキル「捕食者」を獲得…成功しました。』
- III 『確認しました。血液が不要な身体を作成します。』

- ① I - II - III                      ② I - III - II                      ③ II - I - III
- ④ II - III - I                      ⑤ III - I - II                      ⑥ III - II - I

**問 2** 牙狼族との戦いを終え、大所帯となったゴブリン村の面々に名づけを行ったリムル。ゴブリン村の村長、ならびにその息子に付けた正式名称として正しい組み合わせはどれか。

- a 村長=リグル・ド      息子=リグル      b 村長=リグルド      息子=リグル
- c 村長=リ・グルド      息子=リ・グル      d 村長=リグ・ルド      息子=リグ・ルド


- ① a                      ② b                      ③ c                      ④ d

問3 次の文Ⅰ～Ⅲについて、古いものから起こった順に正しく配列したものを、後の①～⑥のうち一つ選べ。

- Ⅰ <sup>リーザドマン</sup> 蜥蜴人族の領域への<sup>オーク</sup> 豚頭族の侵攻が<sup>リーザドマン</sup> 蜥蜴人族の首領に報告された。
- Ⅱ リムルは、シズさんが残したユニークスキル「変質者」でスキルの統廃合を行った。
- Ⅲ <sup>オーク</sup> 豚頭族の強襲を受けた里から脱出した<sup>オニガ</sup> 大鬼族一派がリムルの配下となった。


- ① I - II - III                      ② I - III - II                      ③ II - I - III
- ④ II - III - I                      ⑤ III - I - II                      ⑥ III - II - I

問4 次の画像の空欄   に入る語句の組合わせとして正しいものを、  
後の①～④のうちから一つ選べ。



- |   |   |                          |   |                           |   |   |                          |   |                           |
|---|---|--------------------------|---|---------------------------|---|---|--------------------------|---|---------------------------|
| ① | ア | 災厄級 <small>カタミティ</small> | イ | 天災級 <small>カタストロフ</small> | ② | ア | 災厄級 <small>カタミティ</small> | イ | 災禍級 <small>ディザスター</small> |
| ③ | ア | 惨事級 <small>トラジディ</small> | イ | 天災級 <small>カタストロフ</small> | ④ | ア | 惨事級 <small>トラジディ</small> | イ | 災禍級 <small>ディザスター</small> |

問5 次の画像の空欄 **ア** **イ** に入る語句の組合わせとして正しいものを、  
 後の①～④のうちから一つ選べ。 **5**




- ① ア <sup>マブダチ</sup>親友    イ <sup>どう ほう</sup>同胞
- ③ ア <sup>マブダチ</sup>心友    イ <sup>どう ほう</sup>同胞

- ② ア <sup>マブダチ</sup>親友    イ <sup>めい ゆう</sup>盟友
- ④ ア <sup>マブダチ</sup>心友    イ <sup>めい ゆう</sup>盟友

問6 次の文Ⅰ～Ⅲについて、古いものから起こった順に正しく配列したものを、後の①～⑥のうち一つ選べ。 6

- Ⅰ イングラシア王国の自由組合本部で自由組合総裁・神楽坂優樹と面会を果たしたリムルは、シズさんの心残りである子供達を助けるために自由学園に教師として赴任することになった。
- Ⅱ カバル達の紹介で冒険者登録を行ったリムルは、試験官・ジーギスの提案を受けて、Bランクの試験を受験、無事に合格を果たした。
- Ⅲ シュークリームをお土産に、リムルは魔国連邦に一時帰国した。

- ① I - II - III                      ② I - III - II                      ③ II - I - III  
 ④ II - III - I                      ⑤ III - I - II                      ⑥ III - II - I



問7 次の画像は悪魔の生存年数によって分類された階級表である。空欄 ア イ に入る数字の組み合わせとして正しいものを、後の①～④のうちから一つ選べ。 7

階級	生存年数
現代種 (騎士)	0～30年
近代種 (準爵位)	30～100年
近世種 (男爵位)	100～400年
中世種 (子爵位)	400～ <span style="border: 1px solid black; padding: 0 5px;">ア</span> 年
古代種 (伯爵位)	<span style="border: 1px solid black; padding: 0 5px;">ア</span> 年以上
先史種 (侯爵位)	<span style="border: 1px solid black; padding: 0 5px;">イ</span> 年以上
原種	古から存在

その分、長い年月を費やすからだろう

力が長く悪魔ははるかに強大になる。種として保有量に上限があるとされているが

身の程知らずが中世種以前の者を喚び出した結果、珍しく減らされることもない

- ① ア 600  
イ 1800
- ② ア 800  
イ 2400
- ③ ア 1000  
イ 3000
- ④ ア 1200  
イ 3600


問8・9 開国祭前日から一日目までのリムの動きについて述べた次の文章を読み、後の問い(問8～9)に答えよ。

開国祭前日。自由学園にケンヤ、リョウタ、ゲイル、アリス、クロエを迎えにいったリムは、開国祭期間中の三日間、イベント会場の出入りや出店での飲食ができるフリーパスチケットを子供達に与える。④金額の上限である銀貨百枚分を使い切ってしまったらゲームオーバー、部屋に戻って算数ドリルという課題を出した。

開国祭一日目。開会宣言を行ったリムは歌劇場に移動、各国首脳達とオーケストラコンサートを楽しんだ。小人族のタクトの指揮で奏でられる楽曲、シュナとシオンによる決闘のような二重奏は来賓の心を打ち、メイドに扮したルミナスも拍手を送っていたという。

続いて向かったのは博物館での技術発表会。ベスターとガビルによる回復薬に関連した発表が行われ、その場では⑥ヒポクテ草に関する重大な発見が各国首脳を前に明かされた。開国祭初日から文化、そして技術面でも高い水準のものを見せ、他国を驚かせることに成功したリムなのであった。

問 8 下線部④の「金額の上限である銀貨百枚分」を日本円に換算した金額として正しいものを次の①～④のうち一つ選べ。 8



- ① 10,000円      ② 50,000円      ③ 100,000円      ④ 1,000,000円



問 9 下線部⑥の「ヒポクテ草に関する重大な発見」として正しいものを次の①～④のうち一つ選べ。

- ①ヒポクテ草は魔素の濃度が高いところに生息する特別な種である。
- ②ヒポクテ草はヴェルドラの魔素を受けて突然変異した植物である。
- ③ヒポクテ草は魔素の影響を受けない特別な植物である。
- ④ヒポクテ草は魔素の濃度の高さにより突然変異した植物である。



問 10 次の I～III の文章は「デイスインテグレーション霊子崩壊」詠唱の一部である。「万物よ尽きよ! デイスインテグレーション霊子崩壊」に繋がる形で正しい順に配列したものを、次の①～⑥のうち一つ選べ。 10

- I 我が願い聞き届け給え
- II 神へ祈りを捧げ奉る
- III 我は望み 聖霊の御力を欲する

- ① I - II - III
- ② I - III - II
- ③ II - I - III
- ④ II - III - I
- ⑤ III - I - II
- ⑥ III - II - I





